

令和6年度

# 入学者選抜学力試験問題

## 社 会

注意 答えは、すべて解答用紙に記入しなさい。  
P8は白紙です

受 験 番 号

- 1 次の資料は、あさひさんが社会科の授業で各地方の特徴をまとめたものの一部です。これを見て、各問いに答えなさい。

資料

地方	自然環境	農業	工業
【 i 】	<p>日本の南西部に位置する【 i 】地方は、南北に長く広がっています。</p> <p>中央部には阿蘇山の（ 1 ）があり、その南には険しい山地が連なっています。【 i 】地方では暖流である（ 2 ）と対馬海流が近くを流れているため、冬でも比較的温暖です。一方で、夏から秋には、南の太平洋上から湿った季節風が吹き、多くの雨が降ります。</p>	<p>【 i 】地方南部には、古い火山の噴出物が 50～100m になるほど厚く積もってできたシラス台地が広がっています。 <u>A この台地では茶の生産が盛んで静岡県に次ぐ茶の名産地になっています。</u></p> <p>また、筑紫平野では冬でも温暖な気候を利用し、稲作が終わった後の水田で小麦や大麦といった米以外の作物を栽培する（ 3 ）が行われてきました。毎年5月になると筑紫平野は収穫を待つ黄金色の麦畑がいたる所で見られます。</p>	<p>地層に豊富な石炭が含まれる【 i 】地方北部では、江戸時代から筑豊炭田をはじめ多くの炭田で石炭が採掘されていました。1901年には八幡製鉄所が造られ、鉄鋼業を中心とした工業地帯へと発展しました。</p> <p>高度経済成長期には水質汚濁などの <u>B 公害が深刻化した時期もありましたが、現在では環境保全の取り組みや先進的なりサイクル技術で、世界からも注目される地域になっています。</u></p>
【 ii 】	<p>【 ii 】地方の中央部は、日本最大の湖である琵琶湖と淀川を中心とした低地で、近江盆地や京都盆地などの盆地と、大阪平野などの平野が広がり、大都市の集中する地域になっています。</p> <p>北部と南部では山地が海まで迫り、 <u>C 若狭湾</u> や志摩半島には入り組んだ海岸線が見られます。</p>	<p>大都市郊外では、生花や葉ものを中心とした野菜を栽培し、出荷日の朝に収穫して近隣の市場へ出す（ 4 ）が盛んです。また、産地の名前を付けた伝統野菜である加茂なすや、九条ねぎは京野菜として高い価格で取引されています。</p> <p>南部は暖流である（ 2 ）が流れているため、冬でも温暖でみかんや梅などの果樹園が多く見られます。</p>	<p>淀川の下流域にあたる <u>D 大阪湾</u> の周辺は、明治時代から繊維などの工業が発達し、第二次世界大戦後は阪神工業地帯の中心となりました。</p> <p>臨海部では化学工場や製鉄所などの重化学工業の集中がすすみましたが、世界的な不況などの影響を受けて急速に縮小し、現在では大型の物流施設、テーマパークなどが集まる地域へと変化しています。</p>

問1 【i】地方にある都道府県として正しいものはどれですか。次のア～エの中から1つ選びなさい。

- ア 山口県    イ 愛媛県    ウ 福島県    エ 大分県

問2 【ii】地方の説明として正しいものはどれですか。次のア～エの中から1つ選びなさい。

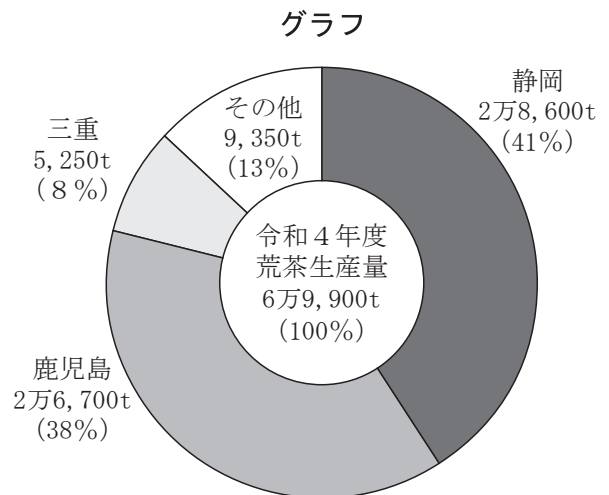
- ア 土砂災害危険箇所が約15万か所あり、地方別で見るともっとも多い数である。  
 イ 日本アルプスとよばれる飛騨山脈・木曾山脈・赤石山脈がある。  
 ウ 1970年代には水質悪化の原因となるりんを含む合成洗剤の使用中止を市民が訴えた。  
 エ ほとんどの地域が亜寒帯に属し、はっきりした梅雨がない。

問3 空欄（1）～（4）に当てはまる語句として正しいものはどれですか。次のア～エの中からそれぞれ1つずつ選びなさい。

- |     |        |         |        |             |
|-----|--------|---------|--------|-------------|
| （1） | ア カルデラ | イ フィヨルド | ウ 大陸棚  | エ フォッサマグナ   |
| （2） | ア 渦潮   | イ 黒潮    | ウ やませ  | エ ロードヒーティング |
| （3） | ア 二毛作  | イ 二期作   | ウ 輪作   | エ 酪農        |
| （4） | ア 促成栽培 | イ 連作    | ウ 園芸農業 | エ 近郊農業      |

問4 下線部Aについて、右のグラフは令和4年度産茶の府県別荒茶生産量及び割合（主産県）を示したものです。このグラフと資料を見て、茶の栽培に適した土地の説明として正しいものはどれですか。次のア～エの中から1つ選びなさい。

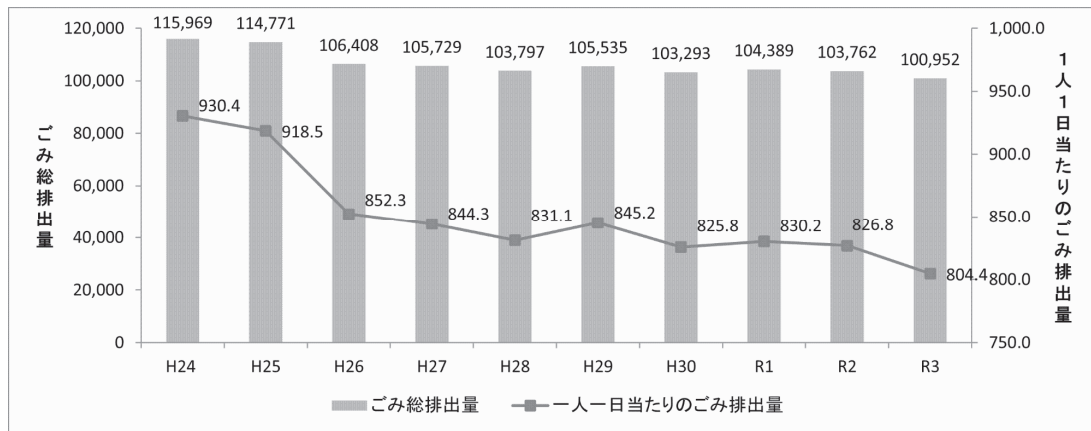
- ア 亜寒帯で雨が少なく、水はけの悪い土地  
 イ 温暖で雨が多く、水はけの悪い土地  
 ウ 亜寒帯で雨が少なく、水はけの良い土地  
 エ 温暖で雨が多く、水はけの良い土地



（農林水産省ホームページより）

問5 下線部Bに関連して、あさひさんは資料を作成する中で、地元である滋賀県大津市のごみ問題に興味を持ち、次のようなグラフと表を見つけました。このグラフと表を比較し、読み取った内容として正しいものはどれですか。下のア～エの中から1つ選びなさい。

グラフ



(大津市ホームページより)

表

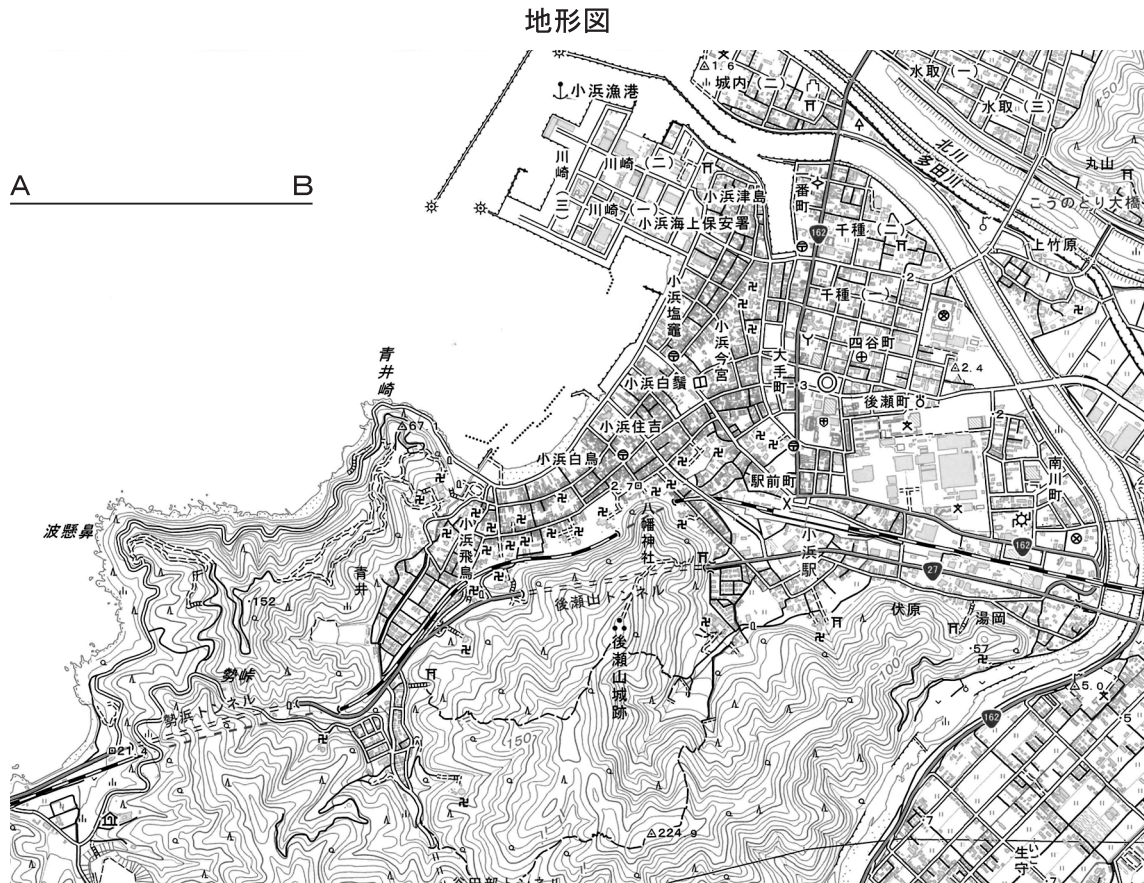
大津市の人口動態										
年	H24	H25	H26	H27	H28	H29	H30	R1	R2	R3
人口(人)	340,339	341,489	342,343	342,031	342,163	342,154	342,088	342,695	343,550	343,835

(大津市ホームページより)

- ア 人口とごみ総排出量は年々増加しているが、一人一日当たりのごみ排出量は減少している。
- イ 人口は年々減少し、それとともに一人一日当たりのごみ排出量は減少している。
- ウ 人口が最大の時に、ごみ総排出量と一人一日当たりのごみ排出量が最も少なくなっている。
- エ 人口が最小の時に、ごみ総排出量と一人一日当たりのごみ排出量が最も少なくなっている。



問6 下線部Cに関連して、次の地形図を見て、各問いに答えなさい。



(平成30年6月1日発行 国土地理院 2万5千分1地形図 小浜)

(1) 地形図を読み取った内容として正しいものはどれですか。次のア～エの中から1つ選びなさい。

- ア 後瀬山城跡の付近には、針葉樹林が広がり、果樹園がところどころに見られる。
- イ 生守の近辺には荒れ地が広がり、住宅はまったく見られない。
- ウ 小浜駅前の交番から図書館がある方向に進んでいくと、寺院や郵便局が見られ、海岸沿いの道まで進むと北側に小浜漁港が、西側に青井崎を見ることができる。
- エ こうのとりの大橋を水取側から千種側へ渡ると、右側に風車が見え、そこから後瀬町方面に進むと官公署が建っている。

(2) 地形図中のA・Bは4 cmの直線です。この直線が示す実際の距離は何 km になりますか。

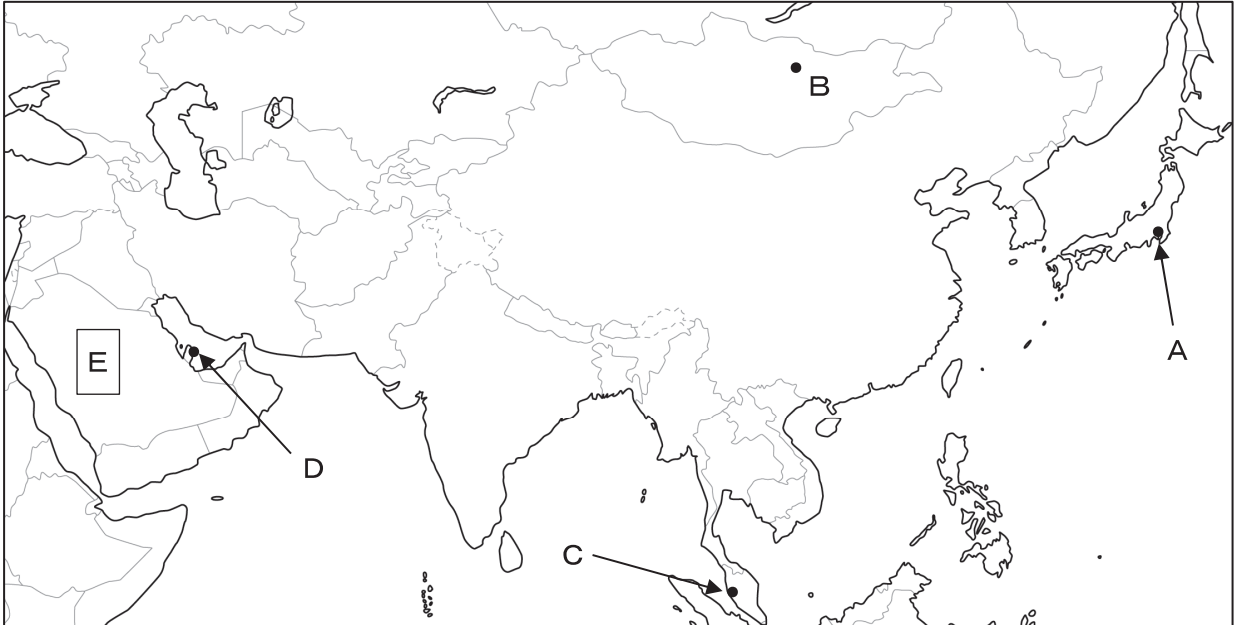
(3) 若狭湾では養殖が盛んに行われています。その理由として正しいものはどれですか。次のア～エの中から1つ選びなさい。

- ア 風の影響を受けやすく海の流れが激しいから
- イ 水深が浅く仕事がしやすいから
- ウ 水深が深く風や波の影響を受けにくいから
- エ 地形がなだらかで栄養が豊富だから

問7 下線部Dに関連して、この地域には製造業の町工場が数多くありますが、その多くは資本金が3億円以下、または従業員数が300人以下の企業です。このような企業を何といいますか。漢字4字で答えなさい。

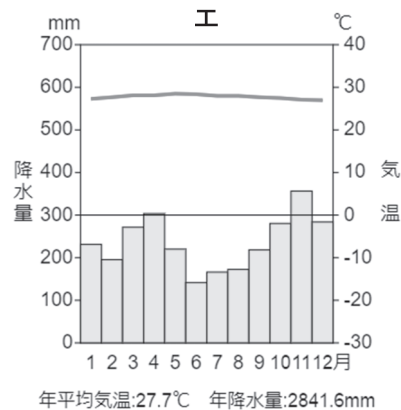
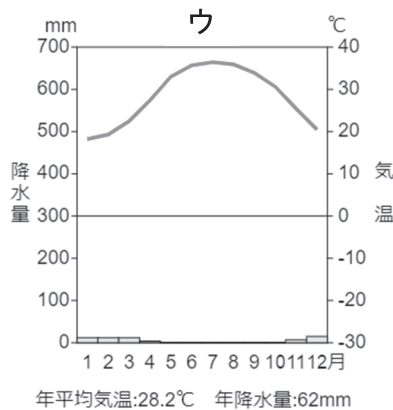
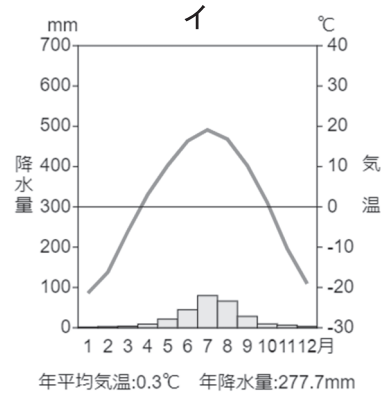
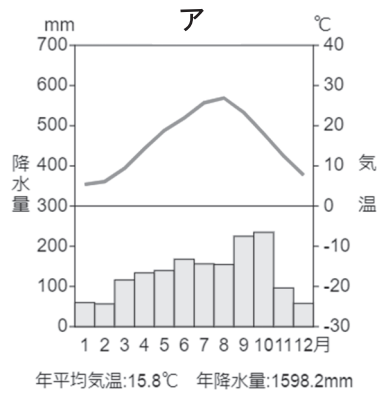
2 すみれさんは、社会科の授業でアジア州の各地域の特色について調べました。次の地図を見て、各問いに答えなさい。

地図



問1 次の雨温図は、それぞれ地図中の都市A～Dのいずれかのものであります。都市Aの雨温図として正しいものはどれですか。次のア～エの中から1つ選びなさい。

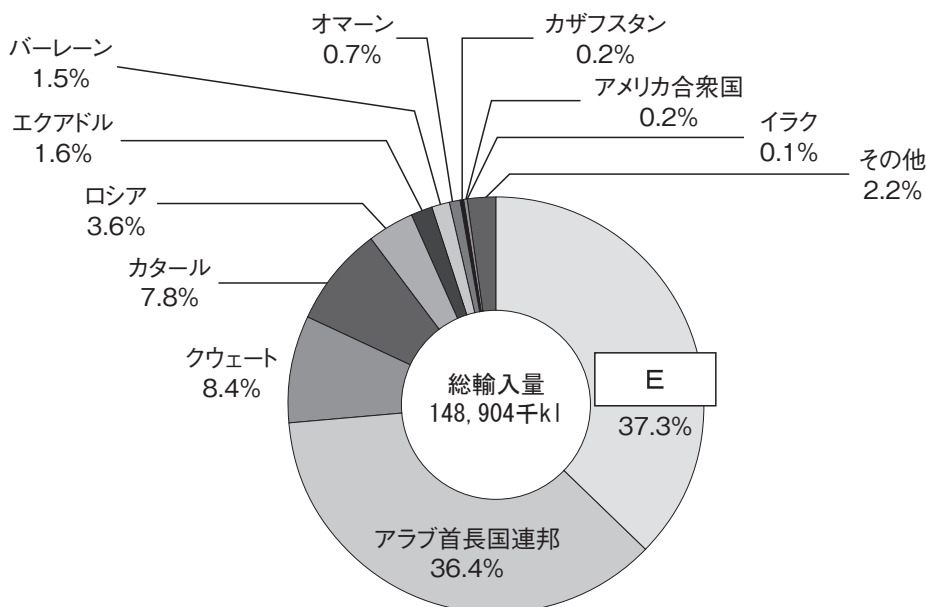
雨温図



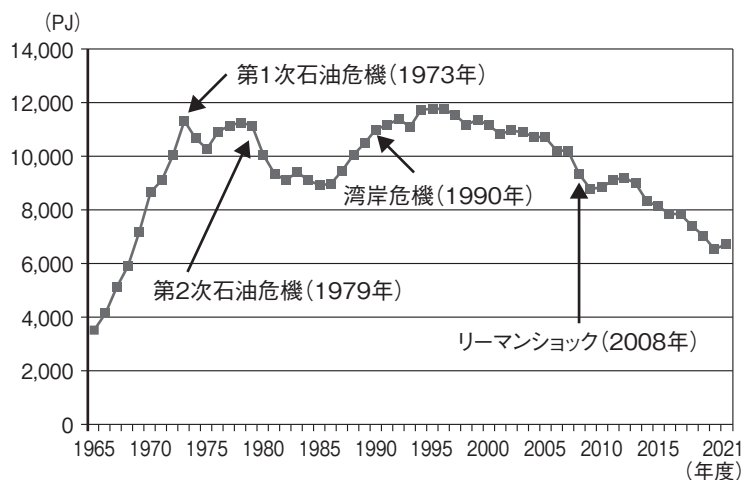
(雨温図作成サイト (<https://ktgis.net/service/uonzu/>) で作成)

問2 すみれさんは、アジア州の特色を調べている中で次の2つのグラフを見つけました。これらを見て、各問いに答えなさい。

グラフ1 日本における原油の輸入先



グラフ2 日本の石油供給量の推移



(経済産業省 資源エネルギー庁 エネルギー白書 2023 より)

- (1) 地図中の **E** とグラフ1中の **E** には同じ国名が入ります。この国名を答えなさい。
- (2) 2つのグラフを読み取った内容として正しいものはどれですか。次のア～エの中から1つ選びなさい。
- ア 日本は原油の輸入をヨーロッパ州の国々に依存している。
  - イ 日本は原油の輸入を北半球の国々に頼っている。
  - ウ 日本は第2次石油危機の後、石油供給量が減少傾向にあったが、1980年代後半から2000年代後半まで上昇し続けている。
  - エ 日本の石油供給量は、リーマンショック後に過去最低の数値となっている。

問3 次の資料は、すみれさんがアジア州の成長についてまとめたものです。これを見て各問いに答えなさい。

資料

テーマ	成長した国・地域	成長した理由
(A) の台頭	韓国・台湾 香港・シンガポール	・繊維製品や電子部品などの生産増加→欧米・日本へ輸出 ・特に台湾はハイテク産業で大きく経済成長をとげた
中国の発展	中国東部	・ <u>労働力を求めた外国企業の受け入れ</u> ・アメリカや日本などへの輸出
	中国西部	・政府による鉄道、道路整備と自動車産業などの育成
東南アジアの発展と課題	ASEAN	・労働力を求めた外国企業の受け入れ ・日本や欧米への輸出
インドの成長	インド	・高い教育水準による情報技術産業の成長 ・(B) の革命による農業革命
資源豊かな西アジア・中央アジア	西アジア	・豊富な石油の生産と輸出 ・アジアの国々からの出かせぎ労働者
	中央アジア	・希少金属＝(C) などの鉱山資源の生産と輸出 ・シルクロードでの交易の歴史的遺産による観光業

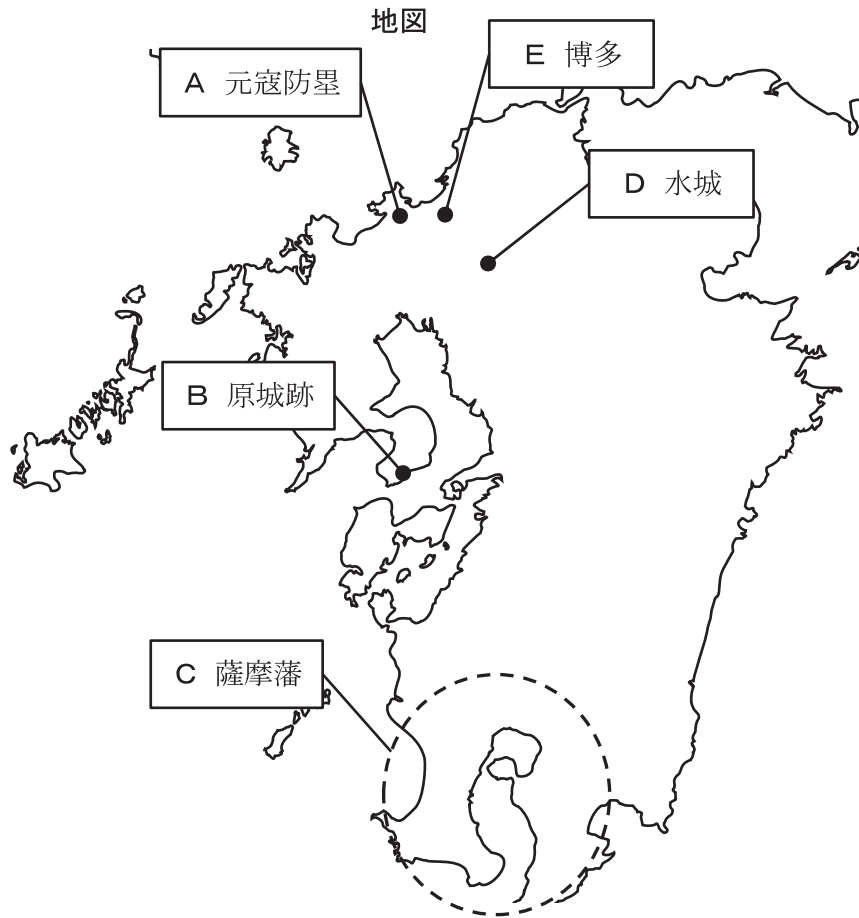
(1) (A) ～ (C) に当てはまる語句の組み合わせとして正しいものはどれですか。次のア～エの中から1つ選びなさい。

- |   |              |       |           |
|---|--------------|-------|-----------|
| ア | (A) BRICS    | (B) 青 | (C) レアメタル |
| イ | (A) BRICS    | (B) 緑 | (C) ジオパーク |
| ウ | (A) アジア NIES | (B) 緑 | (C) レアメタル |
| エ | (A) アジア NIES | (B) 青 | (C) ジオパーク |

(2) 下線部に関連して、各国の企業がアジア諸国に進出してきたねらいは何ですか。「安い賃金」・「製品の価格」という語句を用いて35字以内(句読点含む)で説明しなさい。

このページは白紙です

- 3 次の地図は、古代から近世における九州地方の歴史的な場所についてまとめたものです。これを見て、各問いに答えなさい。



問1 Aが築かれたあとの歴史について、正しく説明をしているものはどれですか。次のア～エの中から1つ選びなさい。

- ア 院政を行っていた後鳥羽上皇は、源氏の将軍がとだえると、幕府をたおすために兵をあげた。
- イ 天皇家で院政の実権をめぐる争いが起こり、藤原氏もそれに加わって、朝廷が二つに分かれて激しく争った。
- ウ 幕府は徳政令を出して御家人を救済しようとしたが、一時的な効果しかなかった。
- エ 荘園をめぐる各地の争いや蝦夷などの抵抗が増加し、その中で武士団が形成された。

問2 Bは、重い年貢の取り立てとキリシタンへの厳しい弾圧に反対するため、天草四郎を一揆の大將として人々が抵抗を続けた場所です。その頃の世界の出来事として正しいものはどれですか。次のア～エの中から1つ選びなさい。

ア ヨーロッパの貿易や金融の中心として栄えたオランダが、東インド会社を設立してアジア貿易にも進出した。

イ フランスでは、国王に不満を持った民衆によって革命が起こり、王政から共和政へと移行した。

ウ 秦の始皇帝が中国を統一し、これまでの「王」にかわり「皇帝」の称号を使い始めた。

エ アラビア半島ではムハンマドが、唯一神アッラーを信じるイスラム教を始めた。

問3 Cについて、各問いに答えなさい。

(1) 江戸時代の日本では鎖国政策が行われていましたが、外国との交流が完全に断たれたわけではありません。薩摩藩はどここの地域との窓口でしたか。次のア～エの中から1つ選びなさい。

ア 朝鮮      イ 蝦夷地      ウ アメリカ      エ 琉球

(2) 倒幕の中心となり新政府を打ち立てる人物が薩摩藩から現れます。その人物は誰ですか。次のア～エの中から1つ選びなさい。

ア 大塩平八郎      イ 大久保利通      ウ 坂本竜馬      エ 井伊直弼

問4 Dは百済の救済を目的に日本が唐・新羅と戦ったあとに築かれました。この戦いを何といいますか。また、その戦いの後、大津宮で即位した天皇は誰ですか。


問5 Eは自治都市として発展しました。これと同じように自治的な都市運営がなされていた場所はどこですか。次のア～エの中から1つ選びなさい。

ア 長崎      イ 兵庫      ウ 京都      エ 神奈川



4 次の絵A～Dは近代に起こった戦争の一部を描いたものです。各問いに答えなさい。

絵A



絵B



絵C



絵D



問1 絵Aは戦争による増税で苦しむ国民の様子を描いたものです。次の説明を読み、空欄（ X ）は条約名を、空欄（ Y ）は国名を答えなさい。

アメリカの仲介により日本は（ X ）を結び、韓国における優越権や旅順・大連の租借権などを得ました。しかし、（ Y ）から賠償金が得られないことがわかり、日比谷焼き討ち事件が起こりました。

問2 絵Bは日清戦争後に双方の代表が話し合いを行った場面を描いたものです。各問いに答えなさい。

(1) 次の資料は下関条約の要約です。空欄（ Z ）に当てはまる地域はどこですか。次のア～エの中から1つ選びなさい。

資料

- |                              |  |
|------------------------------|--|
| 1. 清は朝鮮の独立を認める。              |  |
| 2. 清は遼東半島・（ Z ）・澎湖諸島を日本にゆずる。 |  |
| 3. 清は日本に2億両の賠償金の支払いを行う。      |  |
| 4. 日本の通商上の特権を認める。            |  |

- ア 上海      イ 北京  
ウ 台湾      エ 香港

(下関条約要約)

(2) 下関条約が結ばれたあと、日本は列強の国々から遼東半島の返還を求められました。この動きに参加しなかった国はどこですか。次のア～エの中から1つ選びなさい。

- ア ロシア      イ イギリス      ウ フランス      エ ドイツ



問3 絵Cは軍部が国内で権力を握ろうとする様子を風刺した絵です。この風刺画が描かれた頃の出来事をまとめた次の年表を見て、【ア】・【イ】に当てはまる語句を答えなさい。

年表

年	出来事
1929	世界恐慌が起こった
1931	満州事変が始まった
1932	犬養毅首相が殺害される【ア】事件が起こった
1933	「満州国」からの撤兵勧告に反発して、日本は【イ】を脱退した
1936	陸軍の青年将校らが首相官邸や国会議事堂周辺を占拠する事件が起こった

問4 絵Dは第一次世界大戦後に開かれた講和会議を描いたものです。アメリカ・フランス・イギリス各国代表の考えを示した次のⅠ～Ⅲの文と国名の組み合わせとして正しいものはどれですか。下のア～カの中から1つ選びなさい。

- Ⅰ 「ドイツからたくさん賠償金をとって領土も取り返そう」
- Ⅱ 「これからの時代は、国際平和と民族自決が大切だ」
- Ⅲ 「植民地のインド人も戦わせた。勝ったのだから、見返りを求めるのは当然だ」

	アメリカ	フランス	イギリス
ア	Ⅰ	Ⅱ	Ⅲ
イ	Ⅰ	Ⅲ	Ⅱ
ウ	Ⅱ	Ⅰ	Ⅲ
エ	Ⅱ	Ⅲ	Ⅰ
オ	Ⅲ	Ⅰ	Ⅱ
カ	Ⅲ	Ⅱ	Ⅰ

問5 絵A～Dを出来事が起こった順に並べかえたものはどれですか。次のア～エの中から1つ選びなさい。

- ア 絵A → 絵B → 絵C → 絵D
- イ 絵A → 絵C → 絵D → 絵B
- ウ 絵B → 絵D → 絵A → 絵C
- エ 絵B → 絵A → 絵D → 絵C

5 次の会話を読んで、各問いに答えなさい。

先生：みなさんが中学生のときに経験した暮らしの変化について話してください。

すみれ：はい。私は2年生のときに初めてA スマホ（スマートフォン） を持つようになって、そのことがきっかけで音楽をサブスクリプションで聴くようになりました。自分の中ではかなり大きな変化だったと感じています。

さとし：いつもどんな曲を聴いているのですか？

すみれ：YOASOBIさんの曲などです。公民の授業で学習したB SDGs に関する曲もありますよ。

さとし：それ、知ってるかも！「ツバメ」という曲じゃないかな。テレビでよく流れてましたよね。

すみれ：そうです。

先生：さとしくんは、日常で何か変わったと感じていることがありますか。

さとし：そうですね…。中学に入学したときはやっぱりC 新型コロナウイルス流行 の影響で、家族でD 旅行 に行く機会がめっきり減ったなど思っていました。でも、2年生のときに一度、割引クーポンを使って県内の旅館に1泊したのが、なんというか、とても新鮮でしたね。それと、自分の家の周辺にある自然や観光施設に日帰りで訪れる機会も増えました。ふだんは意識しないE 地域の特徴 を知るきっかけになったと感じています。

すみれ：私の住んでいる地域の自治会では、コロナのために中止が続いていた夏祭りが4年ぶりに復活しました。久しぶりに参加することができて、やっぱりよいものだなと思ったのですが、いろいろとF 運営上の問題 があったみたいで、予定の時刻よりも早くお祭りが終わってしまい、少し残念に思いました。

さとし：駅前商店街のお祭りですよ？

すみれ：そうです。私が住んでいるのは今も再開発がすすめられているエリアで、近年子どもの数も増えています。お祭り当日も近所の小学生をたくさん見かけました。

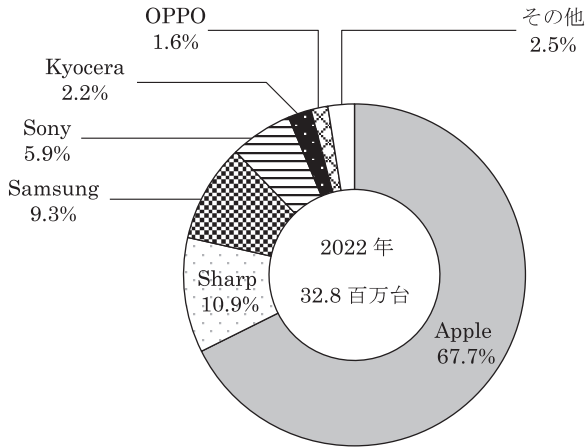
さとし：私の小学生の妹も近所の友達を誘って参加したのですが、確かに帰って来るのが早かったように思いました。

先生：そんなことがあったのですね。2人とも話を聞かせてくれてどうもありがとう。

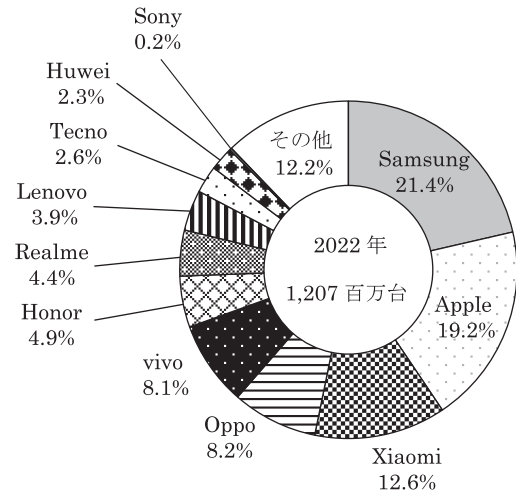
問1 下線部Aに関連して、次の文章はスマートフォンの利用の広がりについてまとめたものです。文章中の空欄（ a ）・（ b ）に当てはまる資料1～4の組み合わせとして正しいものはどれですか。次のページのA～Eの中から1つ選びなさい。

世界のスマートフォンユーザーはすでに40億人を超えていると言われている。日本でも非常に多くの人々がスマートフォンを利用しているが、（ a ）によれば、スマートフォン市場のおよそ3分の2が1つの企業で占められていることがわかる。また、（ b ）は、パソコンよりもスマートフォンにおいて、日本の会社が提供している検索エンジンがより頻繁に利用される傾向にあることを示している。

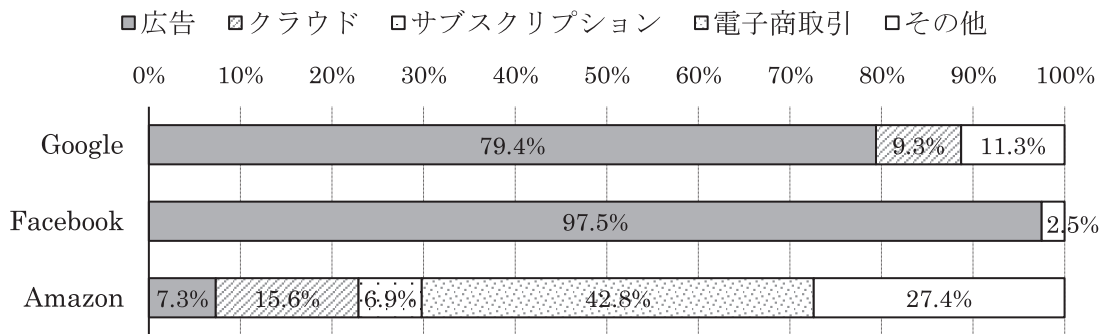
資料1 日本のスマートフォン市場のシェア



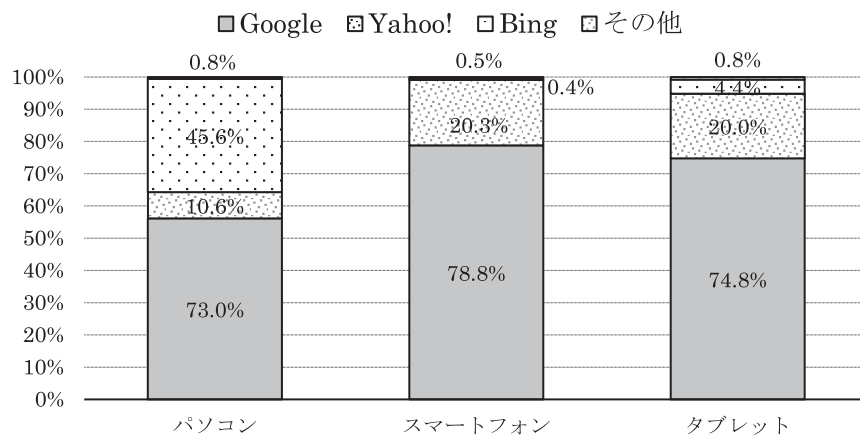
資料2 世界のスマートフォン市場のシェア



資料3 プラットフォーマー各社売上高の構成割合



資料4 日本における検索エンジンのシェア



(資料1～4 「令和5年度 情報通信白書」より)

- ア a-資料1      b-資料3
- イ a-資料1      b-資料4
- ウ a-資料2      b-資料3
- エ a-資料2      b-資料4

問2 下線部Bについて、各問いに答えなさい。

(1) SDGs について述べた文として誤っているものはどれですか。次のア～エの中から1つ選びなさい。

- ア 「だれひとり取り残さない社会」を標語にし、具体的な17の目標を設定している。
- イ 世界が直面している課題を解決するために、2015年に国際連合総会で合意された。
- ウ SDGsの目標を達成するために、政府と企業だけが協同で取り組めばよい。
- エ いじめや差別がない学校にすることもSDGsの大切な目標である。

(2) 生徒P～Rは、先生から資料5として提示された日本のSDGs達成の課題を前提に、これから日本がすすめていくべき取り組みを提案しました。3人の提案のうち、資料5に基づく適切な提案をした人物の組み合わせとして正しいものはどれですか。下のア～カの中から1つ選びなさい。

資料5 日本の達成度の低い目標

目標	達成度の低い主な原因
ジェンダー平等を実現しよう	・女性の国会議員の割合 ・男女の賃金格差
つくる責任 つかう責任	・電気電子機器の廃棄物の量
気候変動に具体的な対策を	・エネルギー生産にともなう二酸化炭素排出量
海の豊かさを守ろう	・排他的経済水域での漁業資源の過剰利用
パートナーシップで目標を達成しよう	・GNIに占めるODAなどでの他国への無償資金提供の割合の低さ

(国連関連研究機関SDSNによるレポート(2023年6月発表)より)

生徒P：私は「ジェンダー平等の実現」のために、女性がより働きやすい職場にしていくことが特に重要だと考えます。日本では育児の負担のために仕事を辞めてしまう女性がまだ多くいます。そこで、女性については育児休暇を取得することができる期間を、子が小学校に入学する前まで延ばせばよいと思います。

生徒Q：私は「つくる責任、つかう責任」を日本が果たしていくために、電気電子機器のリユースを推進していくべきだと考えます。中古スマホを購入して使っている人はまだ少ないですが、少し古い型の製品でも問題ないのではないのでしょうか？そこで、人々に中古スマホの購入を促していくようなしくみを導入していけばよいと思います。

生徒R：私は日本はもっと他国との「パートナーシップ」を強めていく必要があると考えます。特に、最近ニュースでよく耳にする「グローバル・サウス」と呼ばれる発展途上国や新興国に対して、日本はもっと積極的に資金を提供していくべきです。そして、その国が豊かになったら、日本が送った援助金を返してもらうようにすればよいと思います。

- ア 生徒P                      イ 生徒Q                      ウ 生徒R
- エ 生徒Pと生徒Q          オ 生徒Pと生徒R          カ 生徒Qと生徒R

問3 下線部Cに関連して、次の会話は、政府の行った新型コロナウイルス感染症にかかわる政策について授業で話したときのものです。空欄（c）～（f）に当てはまる語句の組み合わせとして正しいものはどれですか。下のア～エの中から1つ選びなさい。ただし、同じ記号の空欄には同じ語句が入ります。

先生：コロナ禍で生活が苦しくなった人たちに対して政府が支援を行うことを決めたとき、誰にどれくらいの金額を給付するべきかが議論となりました。困窮者に限定して30万円を給付する案か、全国民に10万円を給付する案か、どちらが国民にとって有益なのかというものです。みなさんはどう考えますか。

生徒S：30万円案は必要な人に限定して手厚く支援を行うことができるため、政策の目的によく合っているように思うし、（c）が良いと考えます。一方で、生活に困っている人かどうかを、どこかで線引きしてどちらかに振り分けていく必要があります。しかし、どこで線を引いても、支援金をもらえる人ともらえない人が出てしまいます。なので、（d）性という観点から見て課題が残るように思います。

生徒T：その点、10万円案はすべての人が対象となるため（d）と言えますよね。

生徒U：政策実現までの時間を考慮する必要もあるのではないのでしょうか。（e）案は国民一人ひとりの資産を把握するのに膨大な事務作業を要するはずです。なので、（c）性はとても悪くなると考えます。それに対して（f）案は、給付に必要な手続きを簡素化しすばやく支援を行うことができるという利点があると思います。

ア	c－公正	d－効率	e－30万円	f－10万円
イ	c－効率	d－公正	e－30万円	f－10万円
ウ	c－公正	d－効率	e－10万円	f－30万円
エ	c－効率	d－公正	e－10万円	f－30万円

問4 下線部Dに関連して、資料6は、ハウステンボスの宿泊料金プランを示したものです。これを見て各問いに答えなさい。

資料6 宿泊日ごとの料金プラン

8月						
日	月	火	水	木	金	土
		1 E	2 E	3 E	4 E	5 C
6 E	7 E	8 E	9 E	10 E	11 C	12 B
13 B	14 B	15 D	16 D	17 D	18 D	19 C
20 D	21 E	22 E	23 E	24 E	25 D	26 D
27 E	28 E	29 F	30 F	31 F		

料金表（大人1名1室1泊、朝食付き＋2日分の入場パスポート料金）

B	C	D	E	F
89,100円	85,700円	73,200円	60,000円	52,300円

（九州産交ツーリズムホームページ 「ハウステンボス宿泊プラン」より）

(1) 資料6から読み取れることとして誤っているものはどれですか。次のア～エの中から1つ選びなさい。

- ア このプランにはテーマパークの入場料も含まれている。
- イ 最も価格が高い日と最も安い日では、料金に3万5千円以上の開きがある。
- ウ 前日に比べて2万円以上料金が安くなる日は1日もない。
- エ 第2週の土曜日は第3週の土曜日よりも料金が高くなっている。

(2) 次の文章は、宿泊する日によって料金が大きく異なる理由について、資料6をもとに説明したものです。文章中の空欄（g）・（h）に当てはまる語句の組み合わせとして正しいものを、下のア～エの中から1つ選びなさい。

ホテルの宿泊客が多くなるのは週末や連休期間である。一方で、ホテル側が提供できる客室数は通常、日によって変わるわけではない。それゆえ、宿泊客が多くなる日は財・サービスがどうしても（g）になると予想され、料金が上がる。日によって料金に差が生まれるのは、供給量が（h）であるのに対して需要量の変化が非常に激しいからであると考えられる。

- ア g－希少 h－不変的      イ g－希少 h－可変的
- ウ g－過剰 h－不変的      エ g－過剰 h－可変的

問5 下線部Eに関連して、各問いに答えなさい。

(1) 日本の地域独自の文化について述べた文として正しいものはどれですか。次のア～エの中から1つ選びなさい。

- ア 同じ商品名で販売されているカップ麺でも、東日本はかつお風味、西日本はこんぶのうま味を生かしただしが使用されている例が見られる。
- イ 北海道のくまモンなど、地域にゆかりのあるキャラクターが、まちの知名度を押し上げる例が見られる。
- ウ 交通や通信が発達した影響で、各地域に独自の料理や行事、方言などの文化が急速に失われつつあり、県民性として語られてきた多様性が受けつがれなくなっている。
- エ 材料や技法が古くから地域で受けつがれている伝統工芸品は、現在でも日本全国に見られるが、海外から高い評価を受けているものは何もない。

(2) 地域のさまざまな問題解決にあたっている組織として、行政でも企業でもない非営利の団体が地域に重要な役割をはたす場面が増えてきています。「非営利組織」と訳されるこのような民間団体の略語を、アルファベット3字で答えなさい。

(3) 資料7は、地域における独自のきまりについて規定している日本国憲法第94条の条文です。空欄に当てはまる語句は何ですか。漢字2字で答えなさい。

#### 資料7 日本国憲法第94条

地方公共団体は、その財産を管理し、事務を処理し、及び行政を執行する権能を有し、法律の範囲内で（ ）を制定することができる。

問6 下線部Fについて、運営上の問題（課題）と考えられることとして最も適切でないものはどれですか。次のア～エの中から1つ選びなさい。

- ア 熱中症等で体調が急変する参加者が続出したが、そうした想定をしておらず、十分な対応をとることが難しかったこと。
- イ お祭り会場周辺で行う予定をしていた当日の交通規制について、地域住民に対する告知が不十分だったために、深刻な交通渋滞を引き起こしてしまったこと。
- ウ 住民の数が増えている一方で、地域のお祭りの担い手は少なくなっており、文化の継承が危うくなっていること。
- エ 円高の影響によって出店で販売されるほとんどの商品の価格が上がっていたため、お祭りに参加した小学生たちが買うのをあきらめてすぐに家に帰ったこと。



6 次の会話を読んで、各問いに答えなさい。

たけし：先日インターンシップ（就業体験）を終えてきたのですが、どのような企業が自分に合っているのかまだ決めかねています。先輩方はどのようにして A 就職先 を選んだのでしょうか。本格的な就職活動の前に、ぜひアドバイスをお願いします。

先輩 P：私は自分の趣味も大切にしたいから、あまり残業がなくて、たとえ残業しても残業代がきちんと支払われる会社にしたよ。

先輩 Q：僕は内定をもらった会社で経験を積んだら、将来は自分で会社を立ち上げたいと考えているんだ。だから、若いうちはバリバリ働いて起業のための資金を貯めたいと思って、会社での労働時間にこだわらず、結果で評価をしてもらえる会社を選んだよ。

たけし：なるほど。職種や業種についての希望だけでなく、B 労働時間や賃金 なども重視したんですね。

先輩 P：就職活動をして感じたのは、福利厚生の中身は会社によって全然ちがうということ。しっかりチェックするべきだよ。特に C 育児・介護、有給休暇などに関する措置は、実際に制度がどのように適用されているかは外部からは見えづらい部分があるからね。

たけし：たしかにそうですね。僕もインターンシップをして初めて、その会社の気風を感じることができました。育児・介護などのお話もありましたが、将来自分が望む豊かな人生を送るために、（ ）を考えて就職活動をすることがやはり大切なんですね。

先輩 Q：働くこと、結婚すること、子どもを育てること、僕たちには D 自由に選ぶ権利 があるけれど、社会においてそれぞれがやりがいを見つけ、役割や責任を担い、存在を認め合える世の中が理想だと思うよ。

たけし：先輩方、貴重なお話をありがとうございました。

問 1 会話中の空欄に当てはまる、「仕事と生活の調和」と訳される語句は何ですか。カタカナで答えなさい。

問 2 下線部 A に関連して、日本では、多くの企業が、業績悪化など特段の事情がなければ社員を定年まで長く雇用し続ける制度を採用してきました。このような雇用の在り方のことを何といいますか。漢字 4 字で答えなさい。

問 3 下線部 B に関連して、近年では特定の業種に限って、労働者を時間ではなく成果で評価する制度を導入している企業があります。これは次の資料 X～Z のどれに基づくものですか。また、この制度を支持する会話中の大学生は誰ですか。その組み合わせとして正しいものを、次ページの A～カ の中から 1 つ選びなさい。

**X 労働基準法 第 32 条**

使用者は、労働者に、休憩時間を除き 1 週間について 40 時間を超えて、労働させてはならない。使用者は、1 週間の各日については、労働者に、休憩時間を除き 1 日について 8 時間を超えて、労働させてはならない。



Y 労働基準法 第34条

使用者は、労働時間が6時間を超える場合においては少なくとも45分、8時間を超える場合においては少なくとも1時間の休憩時間を労働時間の途中に与えなければならない。

Z 労働基準法 第38条の3

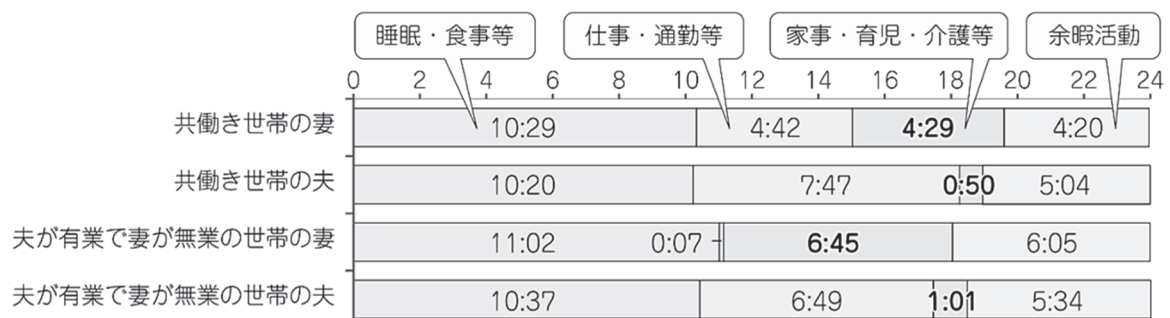
使用者が、当該事業場に、労働者の過半数で組織する労働組合があるときはその労働組合、労働者の過半数で組織する労働組合がないときは労働者の過半数を代表する者との書面による協定により、次に掲げる事項を定めた場合において、労働者を第1号に掲げる業務に就かせたときは、当該労働者は、厚生労働省令で定めるところにより、第2号に掲げる時間労働したものとみなす。

1. 業務の性質上その遂行の方法を大幅に当該業務に従事する労働者の裁量にゆだねる必要があるため、当該業務の遂行の手段及び時間配分の決定等に関し使用者が具体的な指示をすることが困難なものとして厚生労働省令で定める業務のうち、労働者に就かせることとする業務
2. 対象業務に従事する労働者の労働時間として算定される時間

	ア	イ	ウ	エ	オ	カ
資料	X	X	Y	Y	Z	Z
大学生	たけし	先輩P	先輩Q	たけし	先輩P	先輩Q

問4 下線部Cに関連して、資料1は、滋賀県で暮らす夫婦の生活時間を示したものです。この資料から読み取れることとして正しいものはどれですか。下のア～エの中から1つ選びなさい。

資料1 夫婦の生活時間(滋賀県)



(「滋賀の男女共同参画」(令和5年3月発表)より)

- ア 睡眠・食事等の時間が最も短いのは共働き世帯の妻である。
- イ 共働き世帯の夫より、妻が無業の世帯の有業の夫の方が仕事・通勤等の時間が長い。
- ウ 余暇活動の時間が最も長いのは妻が無業の世帯の有業の夫である。
- エ 共働きかどうかにかかわらず、夫の家事・育児・介護等の時間は1時間程度となっており、妻の家事・育児・介護等の負担が大きいことがわかる。

問5 下線部Dに関連して、各問いに答えなさい。

(1) 2024年2月現在、日本の憲法または法律により保障されている国民の権利について記述した次のⅠ、Ⅱの正誤の組み合わせとして正しいものはどれですか。下のア～エの中から1つ選びなさい。

Ⅰ 国政選挙においてインターネット上で投票を行うことが可能となっている。

Ⅱ 18歳になった高校生どうしが、保護者の同意なしに結婚をすることが認められるようになっている。

ア Ⅰ－正 Ⅱ－正      イ Ⅰ－正 Ⅱ－誤

ウ Ⅰ－誤 Ⅱ－正      エ Ⅰ－誤 Ⅱ－誤

(2) 日本において環境権、知る権利、プライバシー権、忘れられる権利などは「新しい人権」と呼ばれています。新しい人権とは何ですか。「日本国憲法」という語句を用いて40字以内(句読点含む)で説明しなさい。