

令和5年度

入学者選抜学力試験問題

社 会

注意 答えは、すべて解答用紙に記入しなさい。

受 験 番 号

- 1 すみれさんは、社会の授業で「ヨーロッパ州」について学習したことをノートにまとめました。これを見て、各問いに答えなさい。

ノート

学習目的 ヨーロッパ州について知る。

学習方法 テーマごとにまとめる。

【自然環境】

- ・ヨーロッパ州はユーラシア大陸の西端に位置し、西は大西洋、南は（ 1 ）に面している。中央部には観光地としても知られる（ 2 ）山脈が東西につらなっている。
- ・ヨーロッパ州の大部分は、日本に比べて高緯度に位置しているが、気温は比較的温暖である。とくに大西洋や北海に面した地域は、A冬の寒さがあまり厳しくない西岸海洋性気候となっている。

【文化】

- ・ヨーロッパでは、多くの地域でキリスト教が信仰されているが、Bその宗派は様々である。
- ・ヨーロッパのさまざまな言語も、およそC三つの系統に分けることができる。

【農業】

- ・ヨーロッパでは、地形や気候など、地域の自然環境に合った農業が古くから行われてきたため、D地域によって異なる食文化がみられる。
- ・フランス料理で知られるEフランスは、ヨーロッパのなかでも農業大国である。

【工業】

- ・1960年代にエネルギーの主役が石炭から石油へと変化すると、工業の中心はしだいに石油化学工業へと移り、Fロッテルダムやマルセイユ近郊などに工場が集中した。
- ・現在は、医薬品や航空機などの（ 3 ）産業、自動車工業などが成長しており、産業の中心地はロンドンやパリ、ミュンヘンなどの大都市近郊に移動している。

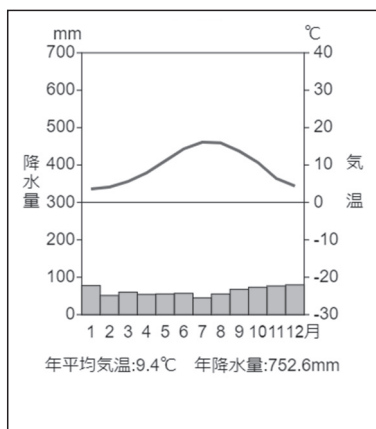
問1 （ 1 ）～（ 3 ）に当てはまるものはどれですか。次のア～エの中からそれぞれ1つずつ選びなさい。

- | | | | | | | | | |
|-------|---|------|---|------|---|----------|---|------|
| （ 1 ） | ア | バルト海 | イ | インド洋 | ウ | 地中海 | エ | 太平洋 |
| （ 2 ） | ア | ロッキー | イ | アンデス | ウ | アルプス | エ | ヒマラヤ |
| （ 3 ） | ア | 伝統 | イ | 先端技術 | ウ | 情報通信技術関連 | エ | 地場 |

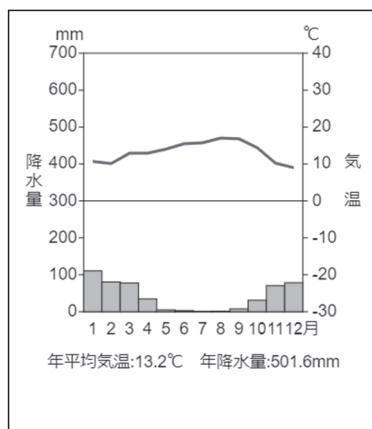
問2 下線部Aに関して、ロンドンの雨温図として正しいものはどれですか。次のア～エの中から1つ選びなさい。

雨温図

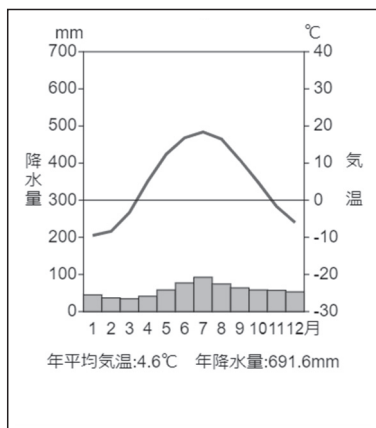
ア



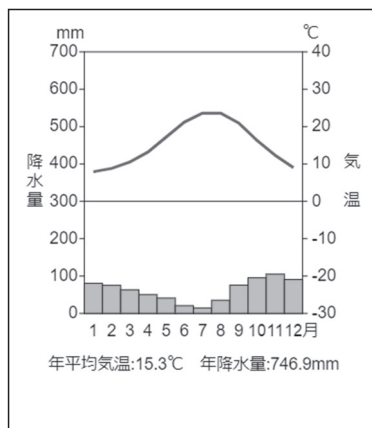
イ



ウ



エ



(雨温図作成サイト <https://ktgis.net/service/uonzu/> で作成)

問3 下線部Bについて、次の地図1中で色が塗られている部分は、キリスト教のある宗派の分布を示しています。どの宗派を示しているか、下のア～ウの中から1つ選びなさい。

地図1



ア プロテスタント イ 正教会 ウ カトリック

問4 下線部Cについて、ラテン系言語圏の国として正しいものはどれですか。次のア～エの中から1つ選びなさい。

ア ドイツ イ フランス ウ フィンランド エ イギリス

問5 下線部Dについて述べた文として誤っているものはどれですか。次のア～エの中から1つ選びなさい。

- ア イタリアでは、乾燥に強いオリーブのオイルを使ったパスタやピザがよく食べられる。
- イ オランダは、酪農が盛んであり、バターやチーズなど乳製品の生産量が多い。
- ウ イギリスは、ヨーロッパで最もワインの生産が盛んであり、消費が多い。
- エ ドイツでは、ライ麦パンやじゃがいも、種類の豊富なソーセージが食卓に並べられる。

問6 下線部Eについて、次の表はおもな国の食料自給率を示したものです。ア～カはドイツ、オランダ、フランス、イギリス、スペイン、イタリアのいずれかを表しています。フランスはどれですか。表中のア～カの中から1つ選びなさい。

表

(単位：%)

	小麦	いも類	野菜類	果実類	肉類	乳製品・牛乳
ア	83	87	43	13	77	88
イ	16	150	347	39	253	157
ウ	124	134	42	37	122	106
エ	183	130	72	65	103	104
オ	62	54	149	109	74	85
カ	78	62	210	129	152	89
アメリカ	152	101	86	67	114	102
日本	12	73	78	38	51	59

(農林水産省 食料需給表 2018年)

問7 下線部Fについて、この地域に工場が集中した理由を、次の地図2を参考にしながら「原油」という語句を用いて、20字以内(句読点含む)で説明しなさい。

地図2



2 昨年は 20 年ぶりにアジアでサッカーワールドカップが開催されました。あさひさんとすみれさんは、前回アジアで行われた日韓ワールドカップについて話しています。2 人の会話を読んで、各問いに答えなさい。

あさひさん：昨年はワールドカップがカタールで開催されましたね。アジアでの開催は 2 度目で、前回は 2002 年日韓ワールドカップまでさかのぼります。

すみれさん：わたしたちが生まれる前に、日本で開催されていたことは知っていましたが、アジアで開催された最初のワールドカップだったことは知りませんでした。どのような大会だったのでしょうか？

あさひさん：試合はもちろん、練習会場や宿舎となった地域は大盛り上がりだったようですよ。当時スター選手の多かったイングランド代表は A 兵庫県 を拠点にしていたみたいです。

すみれさん：滋賀県にはどこかの代表チームが来ましたか？

あさひさん：残念ながら来ていません。関西ではチュニジア代表が B 奈良県 に、デンマーク代表が C 和歌山県 に来ていたようです。

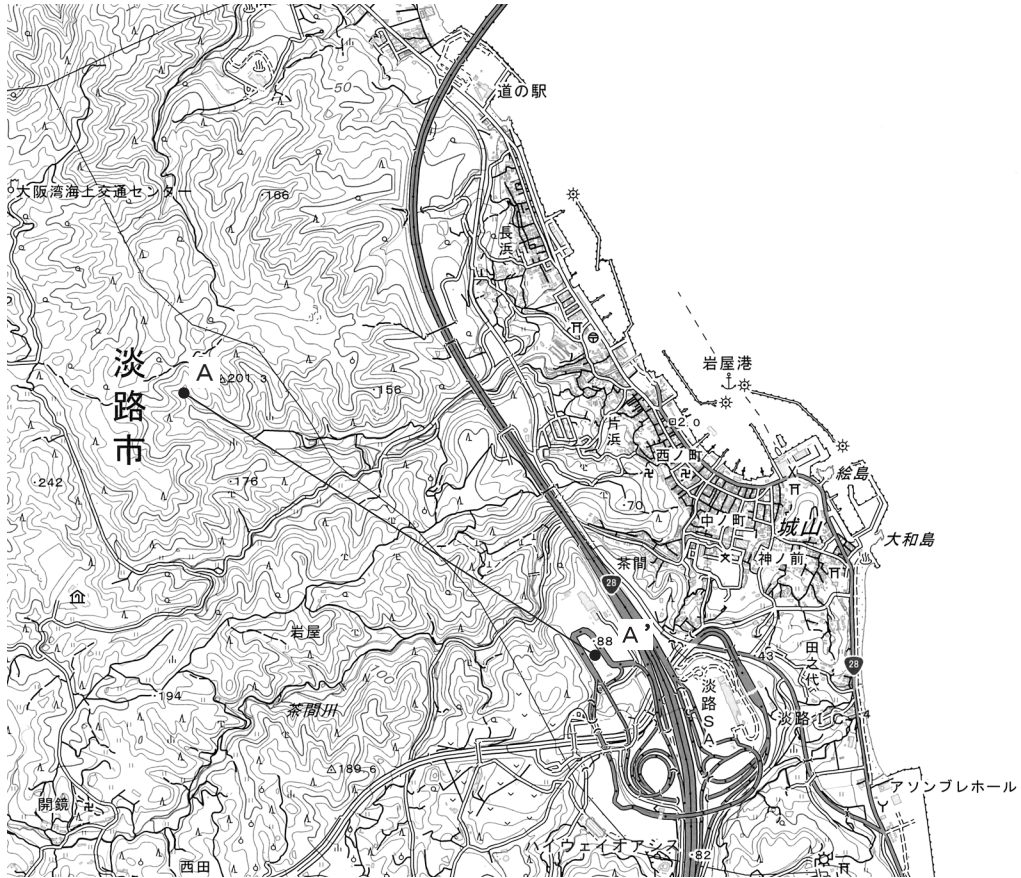
すみれさん：そうでしたか。ところで優勝したのはどのチームですか？

あさひさん：D ブラジル 代表です。当時の映像を見ましたが、本当に強かったです。

すみれさん：さすがですね。もう一度、日本で開催されたら現地で試合を見たいです。

問1 下線部Aについて、次の地形図を見て、下の問いに答えなさい。

地形図



(国土地理院 25000 分の 1)

(1) この地形図を読み取った文として誤っているものはどれですか。次のア～エの中から1つ選びなさい。

- ア 岩屋港には、灯台がある。
- イ 城山から見て西に、老人ホームがある。
- ウ この地形図では、高等学校は見られない。
- エ この地形図では、寺院は見られるが、神社は見られない。

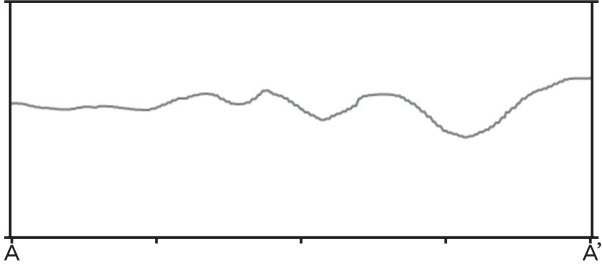
(2) 地形図中に 4 km^2 の範囲を示す正方形を描くとき、一辺の長さとして正しいものはどれですか。次のア～エの中から1つ選びなさい。

- ア 4 cm イ 5 cm ウ 8 cm エ 10 cm

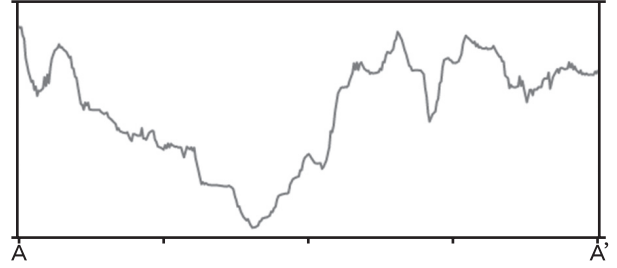
(3) 地形図中A - A' の断面図として最も適切なものはどれですか。次のア～エの中から1つ選びなさい。

断面図

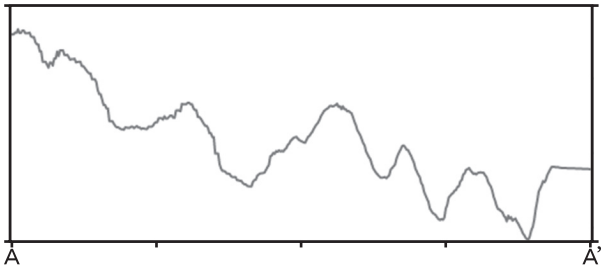
ア



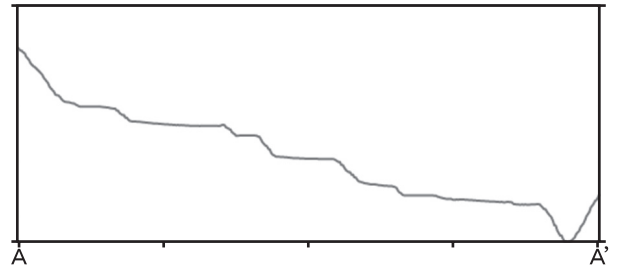
イ



ウ



エ

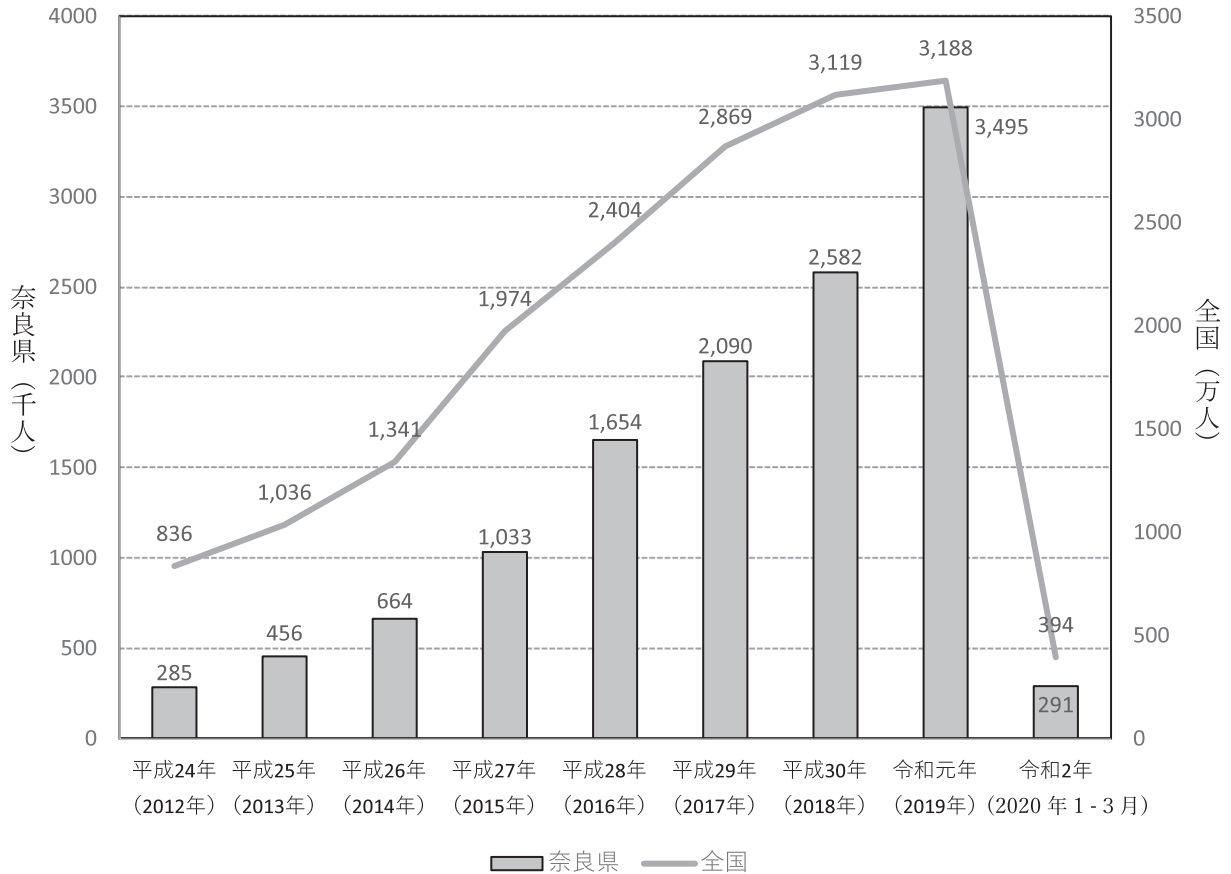


(https://www.benricho.org/map_Chiriin/danmen-PC.html で作成)

問2 下線部Bについて、次のグラフは奈良県と全国の外国人訪問客の推移を示したものです。グラフを読み取った文として正しいものはどれですか。下のア～エの中から1つ選びなさい。

グラフ

外国人訪問客数の推移



(奈良県ホームページより作成)

- ア 平成24年は、全国の外国人訪問客数が奈良県の40倍以上となっている。
- イ 平成30年は、奈良県と全国の外国人訪問客数の差が最も大きくなっている。
- ウ 令和2年(2020年1-3月)は、奈良県・全国ともに前年度に比べ外国人訪問客数が10分の1を下回っている。
- エ 奈良県、全国ともに外国人訪問客数は増加しつづけている。

問3 下線部Cについて、この地にまたがり、2004年に登録された世界遺産はどれですか。次のア～エの中から1つ選びなさい。

- ア 石見銀山
- イ 白神山地
- ウ 白川郷
- エ 熊野古道

問4 下線部Dの都市リオデジャネイロ(西経45度)が6月3日18時のとき、日本(東経135度)は6月何日何時か答えなさい。

- 3 はるとさんは「日本と中国の歴史」というテーマでまとめノートを作成しました。まとめノートの一部と、作成に用いた資料を見て、各問いに答えなさい。

まとめノート

弥生時代以降、日本国内にあるいくつかの小国は①漢や魏に使いを送る「朝貢」という形を取り、他の小国より有利な立場に立とうとした。ところが、飛鳥時代に入り、ア聖徳太子(厩戸皇子)が使節を派遣する頃には②隋と対等な関係を築こうと考えた。奈良時代には③唐から(Ⅰ)が来日し、奈良に唐招提寺を建立するなど、B仏教を介した交流が深まった。

平安時代に入ると間もなく唐は滅び、小国に分かれた後、④宋が中国を統一した。鎌倉時代に入り、モンゴル民族から出たチンギス・ハンが大帝国を築くと、孫のフビライ・ハンは国号を(Ⅱ)と定めて中国を支配した。そして、高麗の軍勢も合わせて日本に攻め込んできた。・・・(以下省略)

資料1

その国は、もとまた男子をもって王としていた。七～八十年まえ倭国は乱れ、あい攻伐(こうばつ)して年をへる。ともに一女子をたてて王となす。名づけて卑弥呼という。鬼道(きどう)につかえ、よく衆をまどわす。年はすでに長大であるが、夫婿(ふせい)はない。弟があつて、佐(たす)けて国を治めている。

資料2



- 問1 まとめノートにある空欄(Ⅰ)・(Ⅱ)に当てはまる語句の組み合わせとして正しいものはどれですか。次のア～エの中から1つ選びなさい。

	(Ⅰ)	(Ⅱ)
ア	鑑真	元
イ	鑑真	明
ウ	行基	元
エ	行基	明

- 問2 平清盛は貿易で利益を得て、支配力を拡大しました。平清盛が貿易をおこなった相手国をまとめノートの二重下線部①～④の中から1つ選びなさい。また、そのために整備した港はどこですか。都道府県名で答えなさい。

問3 下線部Aの政策として誤っているものはどれですか。次のア～エの中から1つ選びなさい。

- ア 仏教や儒学の考え方を取り入れ、役人の心構えを示した。
- イ 家柄にとらわれず、才能や功績のある人物を役人に取り立てようとした。
- ウ 大王（天皇）を中心とする政治制度を整えようとした。
- エ 豪族が支配していた土地と人々を国家が直接支配する方針を示した。

問4 下線部Bについて、奈良時代、都に東大寺が建立され、大仏がまつられました。また、国ごとに国分寺や国分尼寺が建立されました。これらの事業は何を目的に行われましたか。「国家」という語句を用いて、25字以内（句読点含む）で説明しなさい。

問5 資料1について、各問いに答えなさい。

(1) この資料の名前は何か。次のア～エの中から1つ選びなさい。

- ア 『漢書』地理志 イ 『後漢書』東夷伝
- ウ 『魏志』倭人伝 エ 『宋書』倭国伝

(2) この時代に関連する写真として、最も適切なものはどれですか。次のア～エの中から1つ選びなさい。



問6 資料2はチンギス・ハンが築いた大帝国の領土を示した地図です。この帝国の名前を答えなさい。

問7 14世紀以降の日中関係について、次の2つの文を読み、その正誤の組み合わせとして正しいものはどれですか。下のア～エの中から1つ選びなさい。

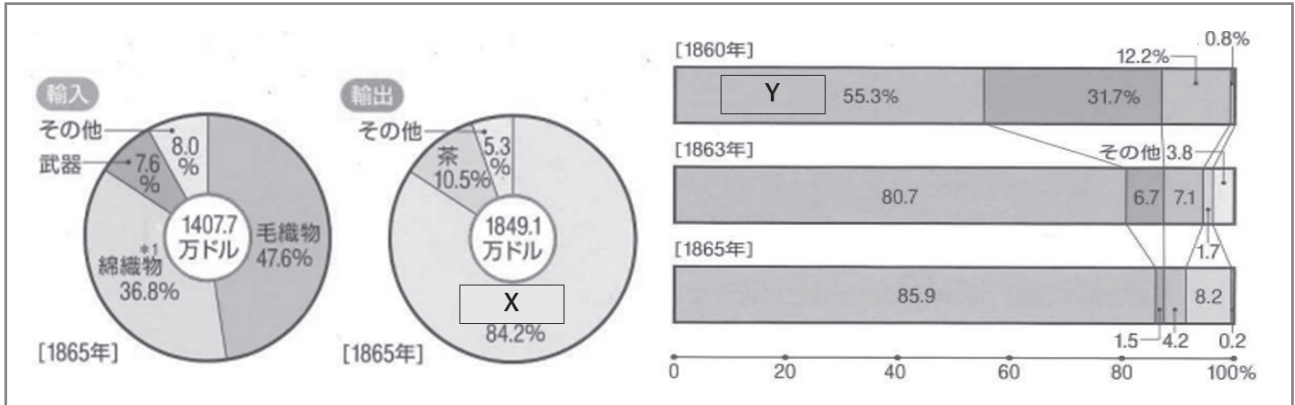
- X 足利義政は倭寇の取り締まりを強化する代わりに勘合貿易を行った。
- Y 清は將軍の代替わりごとに江戸幕府に通信使を派遣した。

- ア X－正 Y－正 イ X－正 Y－誤
- ウ X－誤 Y－正 エ X－誤 Y－誤

4 次の歴史資料A～Fを見て、各問いに答えなさい。

問1 次の歴史資料Aについて、各問いに答えなさい。

歴史資料A



(1) 歴史資料Aについて、円グラフは日本が開港した後の貿易品目を示しています。また、帯グラフは貿易の相手国を示しています。グラフ内の **X**・**Y** に当てはまる語句の組み合わせとして正しいものはどれですか。次のア～エの中から1つ選びなさい。

	X	Y
ア	銀	イギリス
イ	銀	ロシア
ウ	生糸	イギリス
エ	生糸	ロシア


(2) 歴史資料Aのころの世界の出来事として誤っているものはどれですか。次のア～エの中から1つ選びなさい。

- ア イギリスは自由貿易の実現を口実にして、清に艦隊を派遣し攻撃した。
- イ スペインは南北アメリカの先住民を征服し植民地を築き、フィリピンのマニラを拠点にしてアジア貿易にのりだした。
- ウ アメリカ合衆国の統一と奴隷の解放をめざしたリンカン大統領の指導の下で、北部が戦争に勝利した。
- エ インドでは、イギリスの支配に不満をもつ人々が立ち上がり、大反乱が起こったが、イギリスに鎮圧された。

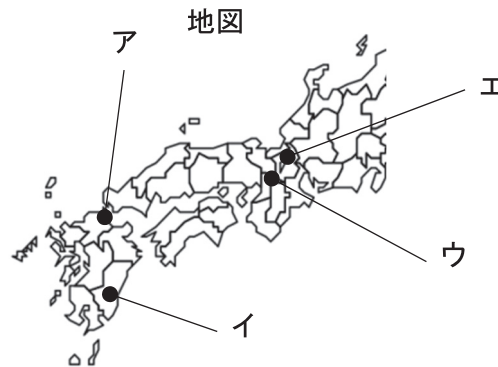
問2 次の歴史資料Bについて、各問いに答えなさい。

歴史資料B

近代日本を支えた重工業の分野では、**Z**戦争で得た賠償金を使ってつくられた、官営の八幡製鉄所（右写真）が中心となりました。ここでは中国から輸入された鉄鉱石や、筑豊炭田の石炭を使って1901（明治34）年から鉄鋼の生産を始めました。政府が軍需産業に力を入れ、重工業が発達すると、それまで輸入にたよっていた機関車や戦艦なども日本国内で生産できるようになりました。

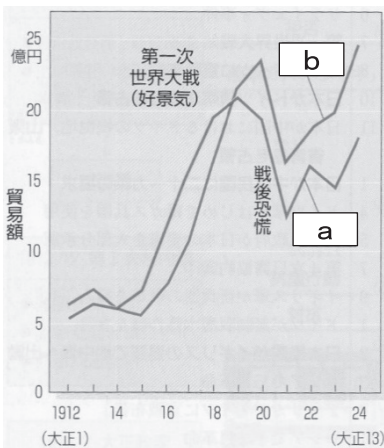


- (1) 歴史資料Bを読み、**Z**に当てはまる語句を漢字2字で答えなさい。
- (2) 歴史資料Bを読み、下線部の施設がある場所として最も適切なものを、次の地図中のア～エの中から1つ選びなさい。



問3 次の歴史資料Cについて、グラフと解説中の（ a ）・（ b ）にはそれぞれ同じ語句が入ります。それぞれに当てはまる語句を漢字2字で答えなさい。

歴史資料C



第一次世界大戦中に、戦場とならなかった日本とアメリカは世界経済において力を伸ばしました。

戦争に必要とされた船舶や鉄鋼などを生産し、重工業が急成長しました。これによって、日本では（ a ）額が（ b ）額を上まわり、貿易収支が赤字から黒字になりました。一方で、好景気は物価の急上昇を招き、それに庶民の賃金の上昇が追いつかず、生活は苦しくなりました。

問4 次の**歴史資料D**は、世界恐慌が起きた直後に撮られた写真です。世界恐慌の発端となった株価大暴落が起きた国はどこですか。

歴史資料D



1929年10月のウォール街の様子



ロンドンで仕事を求める男性

問5 次の**歴史資料E**について、**首相I**と**首相II**はそれぞれ誰ですか。組み合わせとして正しいものを、下の**ア～カ**の中から1つ選びなさい。

歴史資料E



首相I

わたしが首相のとき、アメリカを中心とする48か国の資本主義諸国などとの間に、サンフランシスコ平和条約を結びました。これにより日本は独立を回復しました。

わたしが首相のとき、「所得倍増」政策をうち出すと、人々の経済への関心は高まりました。また、1964年に東京オリンピックが開かれました。



首相II

	首相I	首相II
ア	吉田茂	鳩山一郎
イ	吉田茂	池田勇人
ウ	鳩山一郎	吉田茂
エ	鳩山一郎	池田勇人
オ	池田勇人	吉田茂
カ	池田勇人	鳩山一郎

問6 次の歴史資料Fについて、下のⅠ～Ⅲの文はグラフ中のA～Cのどの時期を表していますか。組み合わせとして正しいものを、下のア～カの中から1つ選びなさい。

歴史資料F



- Ⅰ 冷戦後も紛争が絶えなかった中東地域では、イラク軍がクウェートへ侵攻すると、アメリカ軍を主体とする多国籍軍がイラクを攻撃した。
- Ⅱ ハイジャックされた飛行機がアメリカの世界貿易センタービルなどに突入する事件が起こったことをきっかけに、アメリカはアフガニスタンやイラクを攻撃した。
- Ⅲ 中東で起こった戦争の影響で原油の価格が上がり、日本国内ではオイルショックが起こった。

- | | | | | | | | |
|---|-----|-----|-----|---|-----|-----|-----|
| ア | A-Ⅰ | B-Ⅱ | C-Ⅲ | イ | A-Ⅰ | B-Ⅲ | C-Ⅱ |
| ウ | A-Ⅱ | B-Ⅰ | C-Ⅲ | エ | A-Ⅱ | B-Ⅲ | C-Ⅰ |
| オ | A-Ⅲ | B-Ⅰ | C-Ⅱ | カ | A-Ⅲ | B-Ⅱ | C-Ⅰ |

5 次の文章を読んで、各問いに答えなさい。

第二次世界大戦以降、日本社会は大きな変化を経験してきました。

一つ目の大きな変化は、様々な情報が瞬時に手に入るようになったことです。A「情報」を取り扱うための技術が大きく進歩し、私たちの生活は非常に豊かになりました。そして、それらの技術は働き方や様々なサービスにも応用されるようになっていきます。

二つ目はB「人口構造の変化」です。この変化によって、将来の私たちの生活に大きな影響が出ると言われています。

一方で、変わらないものもあります。その一つがC「私たちは一人で生きていくことはできず、他の人々との関わりの中で生きている」という事実です。

日本では、戦後、「国民主権」・D「基本的人権の尊重」・E「平和主義」の三つの柱をかかげる憲法を作り、私たち全員が幸せに暮らすことができる国や社会をめざしました。同時にF「選挙」を通じて、私たちが意見を出し合い、国や社会をよりよくしていけるように仕組みも整えました。

問1 下線部Aのことを「情報通信技術」と呼びます。これをアルファベット3字で何というか答えなさい。

問2 下線部Bについて、各問いに答えなさい。

(1) 次の文章の (a) ・ (b) に当てはまる語句の組み合わせとして正しいものはどれですか。下のア～エの中から1つ選びなさい。

近年の日本では、総人口における15歳未満の子どもの数が減る現象と、65歳以上の高齢者の割合が増える現象が同時に進行しています。このような社会のことを、(a) といいます。また、日本では、「夫婦のみ」、「夫婦と(b)の子ども」または「父(母)のみと(b)の子ども」から成る核家族が多く、社会全体でどのように支えあうかを考える必要があります。

	(a)	(b)
ア	超高齢社会	未婚
イ	超高齢社会	既婚
ウ	少子高齢社会	未婚
エ	少子高齢社会	既婚

(2) このまま、人口構造が変化していった場合、日本の社会にどのような変化が起こると考えられますか。最も適切なものを、次のア～エの中から1つ選びなさい。

ア 働き手が増え、経済がより活性化する。

イ 社会保障の仕組みを支えるための負担は、世代間において差が小さくなっていく。

ウ 高齢者の生活を支えるための医療費や介護費が増加し、その費用の確保が難しくなる。

エ 日本の総人口が増加し、住宅の確保が課題となる。

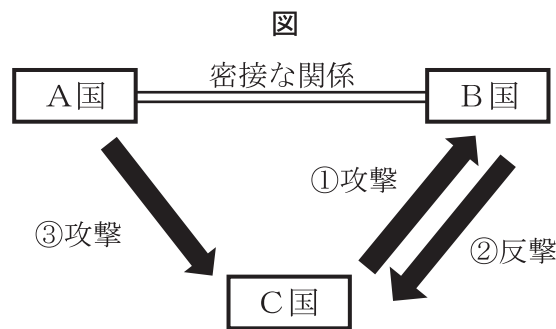
問3 下線部Cを表す言葉として最も適切なものを、次のア～エの中から1つ選びなさい。

- ア 理性的存在 イ 社会的存在 ウ 地域的存在 エ 義務的存在

問4 下線部Dに関して、「自由権」および「平等権」について述べた文として最も適切なものはどれですか。次のア～エの中からそれぞれ1つずつ選びなさい。

- ア 性別を理由にして、仕事や日常生活で不当な差別を受けない。
 イ 他者に、自らの私生活に関する情報を無断で公開されない。
 ウ 自分の収入や財産で最低限度の生活ができない場合は、生活保護を受けることができる。
 エ 現行犯の場合を除いて、裁判官の令状がなければ逮捕されない。

問5 下線部Eに関して、次の図は、自国は攻撃を受けていなくても、攻撃を受けた密接な関係にある国の防衛活動に参加する権利を示したものです。この権利のことを何と呼ぶか答えなさい。なお、図中の①～③は、各国の動きの順序を示しています。



問6 下線部Fについて、次の表は、ある年の比例代表選挙において、ドント式を用いて議席を配分する過程をまとめたものです。この年の選挙で、5議席が配分される場合、Y党が獲得する議席の数を答えなさい。

表

	X党	Y党	Z党
得票数	4500票	3600票	2700票
1	4500	3600	2700
2	2250	1800	1350
3	1500	1200	900

6 次の文章を読んで、各問いに答えなさい。

私たちは、日常生活の中で、様々な財やサービスを消費して暮らしています。その財やサービスは、A生産・流通・貨幣との交換を経て、私たちの手元にやってきます。ただし、私たちが使える貨幣の額には限りがあるため、B購入する財やサービスを「選択」することが必要です。

その選択を含めた消費生活はC「契約」によって支えられています。買い手と売り手のお互いが、契約によって発生した義務をきちんと果たすことで、スムーズな消費生活を送ることができます。

消費生活を送るうえで、収入を得ることは欠かすことができません。私たちは、収入を得る手段の一つとして「労働」を行っています。日本では多くの人が企業に雇われ、収入を得ています。ただし、近年では、経済のグローバル化による激しい競争や産業構造の変化、さらに労働者の高齢化にともなって、D雇用や賃金のあり方を見直す企業が増えてきました。

私たちは「消費」を通して、より良い生活を送りたいと願っています。そのため、政府は国民が人間らしい生活を営めるようにE「社会保障制度」を作り、私たちの生活を支えています。

問1 下線部Aについて、各問いに答えなさい。

(1) 「生産」または「流通」について述べた文として誤っているものはどれですか。次のア～エの中から1つ選びなさい。

- ア 生産において、製造業は第3次産業という産業区分に分類される。
- イ 流通において、輸送にかかるコストは消費活動に影響を与える。
- ウ 生産において、ロボットやAIを活用した生産の効率化が進められている。
- エ 流通において、近年ドローンなどを用いた物流などが実験されている。

(2) 「貨幣」の役割について述べた文として誤っているものはどれですか。次のア～エの中から1つ選びなさい。

- ア 商品の価値の大きさを測ることができる。
- イ 財産として蓄えることができる。
- ウ 特定のモノだけを手に入れる場合にのみ使用できる。
- エ あらゆるモノやサービスと交換することができる。

問2 下線部Bについて、次の表は、Xさん、Yさん、Zさんが「5,000円のお小遣いで何を買うか」を考える際に使われたものです。表を見て、会話中の□に当てはまるものの名前を答えなさい。

表

	5,000円以下か	長く楽しめるか	勉強に役立つか	友達と楽しめるか
タブレット端末	×	○	○	△
ゲームソフト	△	○	×	○
参考書	○	△	○	×
映画チケット	○	△	×	○

※ 表中の「○」は「当てはまる」、「△」は「当てはまらない場合がある」、「×」は「当てはまらない」を表す。

会話

Xさん：欲しいものがたくさんあるのですが、何を買おうか迷っています。

Yさん：この間の定期テストの点数が良くなかったので、今あるお小遣いで勉強に役立つものが欲しいです。

Zさん：テスト勉強に忙しく遊ぶことができなかつたので、遊ぶことにお金を使いたいですね。Xさんは何を買いたいですか？

Xさん：私も何か楽しめるものが欲しいと思っていますが、お小遣いをしばらく貯めてから買おうと思っています。

Zさん：Yさんは、もう買いたいものが決まっているみたいですが、私は、なかなか決めることができていません。手頃な値段で友達と楽しめるものにしたいと思います。

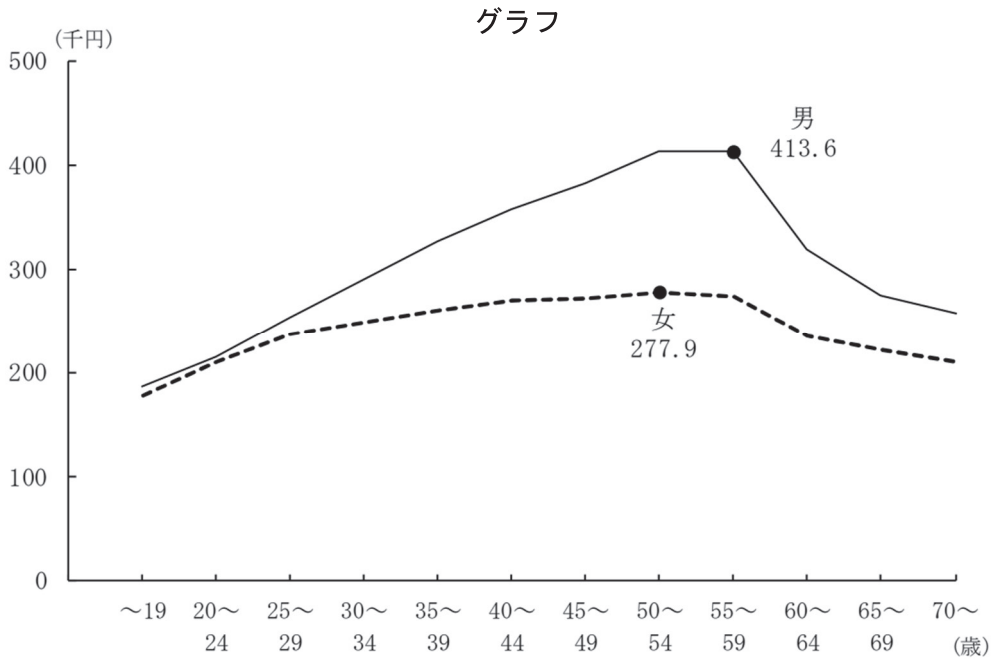
Yさん：Xさんは今後、勉強などで何かを調べる時に使えるものにしたいですか？

Xさん：そうですね。では、私はお金を貯めて□を買うことにします。

問3 下線部Cについて述べた文として最も適切なものを、次のア～エの中から1つ選びなさい。

- ア 消費者は契約後の商品やサービスに不具合が生じた場合、一方的に全ての契約を解除することができる。
- イ 未成年者による契約は保護者によって解約することが可能である。
- ウ 契約は必ず書面をもって取り交わさなければ、無効になる。
- エ 未成年者であっても、16歳を過ぎていればクレジットカードの契約ができる。

問4 下線部Dについて、次のグラフおよび表は、「男女の年齢別賃金額」を表したものです。このグラフおよび表を読み取った文として正しいものはどれですか。あとのア～オの中から1つ選びなさい。



(令和3年度 賃金構造基本統計)

表

年齢階級	男性		女性	
	賃金 (千円)	それぞれの年齢階級間を比較したときの賃金の割合 (20～24歳=100とする)	賃金 (千円)	それぞれの年齢階級間を比較したときの賃金の割合 (20～24歳=100とする)
～19歳	185.6	86.2	177.3	84.1
20～24	215.4	100.0	210.7	100.0
25～29	253.3	117.6	236.2	112.1
30～34	290.5	134.9	248.5	117.9
35～39	327.0	151.8	260.0	123.4
40～44	357.6	166.0	269.9	128.1
45～49	382.8	177.7	270.9	128.6
50～54	412.1	191.3	277.9	131.9
55～59	413.6	192.0	273.3	129.7
60～64	318.1	147.7	234.4	111.2
65～69	274.8	127.6	222.2	105.5
70～	256.5	119.1	210.1	99.7

(令和3年度 賃金構造基本統計より作成)

- ア 女性のほうが男性と比べて、「20～24歳の賃金」を基準としたときの、25歳以降の賃金の伸びが大きい。
- イ 25歳以降、男女の賃金格差は徐々に小さくなっていき、70歳以降になると、賃金格差がほとんど無くなる。
- ウ 25歳以降から70代にいたるまで、女性の賃金は男性の賃金の75%から80%ほどで推移し続けている。
- エ 女性の賃金額が最高となる年齢階級において、女性の賃金額は、男性のものと比べると70%以下となっている。
- オ 男性の賃金は65歳以降に急激に低下するのに対し、女性の賃金は50歳代になると急激に低下しており、女性のほうがより早いタイミングで賃金が低下することが分かる。

問5 下線部Eについて、「社会保障の4つの柱」と「社会保障の内容」の組み合わせとして正しいものはどれですか。次のア～エの中から1つ選びなさい。

- ア 「公的扶助」－加入者や国・事業者が保険料を積み立て、必要な時に給付をうける。
- イ 「公衆衛生」－予防接種、感染症の予防などによって、国民の健康と安全を保つ。
- ウ 「社会保険」－社会的に弱い立場に置かれている人に、生活の保障や支援を行う。
- エ 「社会福祉」－生活に困っている人に、生活費、教育費、医療費などを支給する。

問6 下線部Eに関連する次の日本国憲法条文内の（ ）に入る語句を答えなさい。

第14条

すべて国民は、（ ）であつて、人種、信条、性別、社会的身分又は門地により、政治的、経済的又は社会的関係において、差別されない。